


Enigme 8 : Enigme Finale







CHEZ VIOLETTE

En ce joli mois de mai dans le jardin extraordinaire de Violette, il pousse un tas de fleurs magnifiques, toutes plus belles les unes que les autres.

Elle les vend à l'unité ou en bouquet avec toujours un nombre entier d'euros. (c'est plus facile pour les comptes !)



Voici quelques bouquets constitués de roses rouges magiques, de marguerites à effeuiller, de tulipes jaunes du bonheur et de bleuets enchantés qui coûtent dans le désordre 11, 15, 18, 21, 24, et 39 euros.

 <p>Bouquet A</p>	 <p>Bouquet B</p>	 <p>Bouquet C</p>
 <p>Bouquet D</p>	 <p>Bouquet E</p>	 <p>Bouquet F</p>

Mais combien devra dépenser Théo s'il veut offrir une seule rose à sa maman ?

AIDE : Il n'est pas nécessaire de trouver le prix de chaque fleur, il faut penser aux regroupements...